


**Gruppe**

---

Notruf-Telefonnummer:



**1** Eure Rallye startet an der Haltestelle

---



**2** Euer erstes Ziel ist die Haltestelle **Barmbek**. Wie kommt ihr dorthin?

---

**3** Ein Schild im Bahnhof **Barmbek** weist euch den Weg zum Museum der Arbeit. Wenn ihr das Gelände betretet, seht ihr ganz hinten ein riesiges „Rad“.



**a)** Wozu diente dieses „Rad“?

---



---

**b)** Welchen Namen hat man ihm gegeben?

---

**c)** Was bedeutet dieser Name?

---

**4** Fahrt weiter mit der **U 3** zur Haltestelle **Kellinghusenstraße**. Zwischen **Barmbek** und **Kellinghusenstraße** fährt die Bahn über mehrere Kanäle.

Wie viele sind es?

---

**5** Unten an einem Eingang der Haltestelle **Kellinghusenstraße** findet ihr eine blaue Tafel:

**a)** Wann ist die Haltestelle eröffnet worden?

---

**b)** Zu welcher Linie gehört diese Haltestelle?

---

**6** Fahrt weiterbis zum **Schlump**.

Von hier aus fahrt ihr mit dem Bus nach **Altona**. Mit welcher Bus-Linie?

---

**7** Geht in **Altona** zum Fernbahnhof.



**a)** Wie viele Gleise gibt es am Fernbahnhof?

---

**b)** Der Bahnhof hat eine Besonderheit.

Er ist ein \_\_\_\_\_

**8** Fahrt weiter zum Bahnhof **Dammtor**.

**a)** Mit welcher Linie fahrt ihr dorthin?

---

**b)** Worin unterscheiden sich Linien **S 3** und **S 31**?

---

**9** Findet heraus: Der Zugzielanzeiger auf dem S-Bahnsteig zeigt als Piktogramm einen oder zwei Wagen an. Was bedeutet das?




---




---

**10** Geht hinunter in die Bahnhofshalle. Hier findet ihr mehrere **DB-Fahrkartenautomaten**.

a) Was kostet eine „**Einzelfahrkarte Kind**“ nach **Itzehoe**?

---

b) Was kostet eine „**Einzelfahrkarte Kind**“ nach **Bad Segeberg**?

---

**11** Vor dem **Dammtorbahnhof** ist eine große Bushaltestelle.  
Fahrt mit dem Bus bis zum **Jungfernstieg**.

Mit welchen Bus-Linien könnt ihr dorthin fahren?

---

**12** Am **Jungfernstieg** steht an der Bushaltestelle eine große Säule mit Display-Anzeigen.

Tragt ein, worüber informiert wird.

---



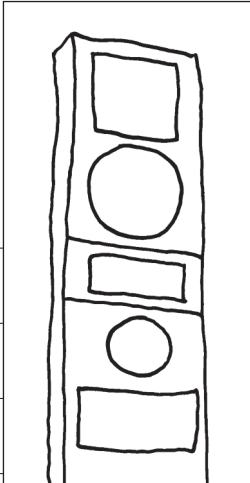
---



---



---



**13** Weiter geht es mit der **U 4** bis zur Haltestelle **Überseequartier** in der HafenCity.

Welche Fahrtdauer wird auf der Linientafel angegeben?

---

**14** Welches Schiff könnt ihr auf dem **Bahnsteig** in einem großen Schaukasten sehen?

---




**15** Jetzt geht es nach oben zum nächsten Ziel, den **Marco-Polo-Terrassen**.  
Dorthin führt der Weg an einem Spielplatz vorbei.

Wer war Marco Polo?

---

**16** Von der Haltestelle **Überseequartier** fahrt ihr nun mit der **U 4** bis zum **Berliner Tor**.  
Oben am **Berliner Tor** gibt es am Eingang von U- und S-Bahn eine „switchh“-Station.



**a)** Wie viele Stellplätze gibt es für car2go-Fahrzeuge?

---

**b)** An den Glaswänden der „switchh“-Station findet ihr sechs Fahrzeugsymbole.  
Welche Fahrzeuge sind abgebildet?

---



---

**17** Nun fahrt ihr wieder nach **Barmbek**.

**a)** Welche Möglichkeiten gibt es, dorthin zu kommen?

---

**b)** Wie fahrt ihr? Warum?

---

**18** An welchen Stationen zwischen **Berliner Tor** und **Barmbek** gibt es keinen Aufzug?

---

**19** Nun geht's zurück zur Schule!

