

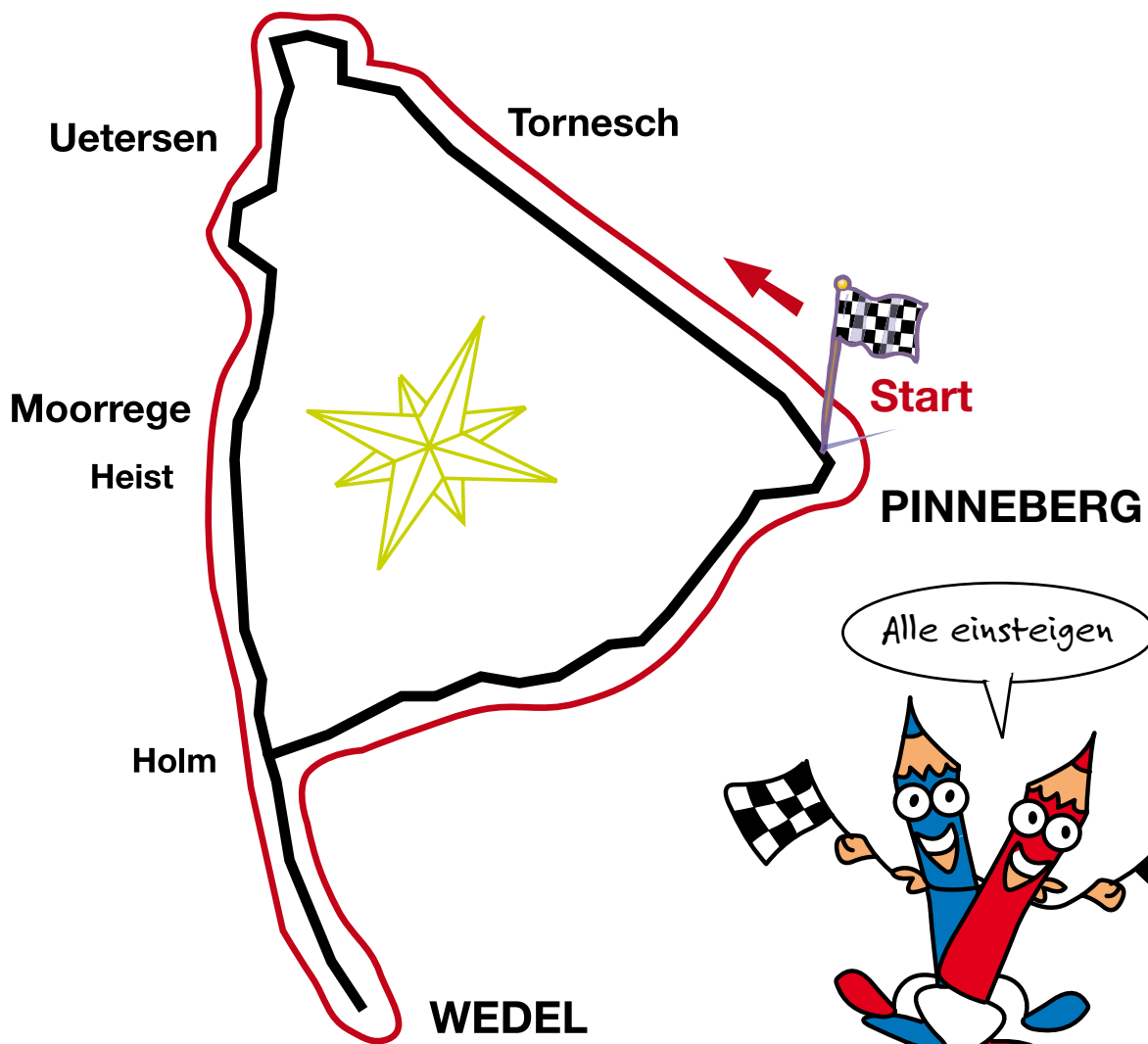
# RALLYE 601



Start Pinneberg / Stand: 01.05.2022

Rallyefahrer / Team:

Tag: ..... Startzeit: .....



# RALLYE 601



Start Pinneberg – Erläuterungen

## Erst lesen, dann starten!

Mit dieser Rallye habt ihr die Möglichkeit, auf einem Rundkurs den südlichen Teil des Kreises Pinneberg zu erfahren. Ihr fahrt mit Bussen und Bahnen im Linienverkehr, müsst euch dabei an einem Fahrplan orientieren, da die Busse und Bahnen nicht so oft fahren.

Die Rallye dauert 2,5 – 3 Stunden. **(Ihr müsst aber noch den Weg nach und von Pinneberg (S-Bahnhof) mit bedenken.)**

Die Rallye startet am S-Bahnhof Pinneberg. Dort endet sie auch.

**Es beginnt mit der Regionalbahn der RB61/RB71 Richtung Elmshorn/Itzehoe/Neumünster bis nach Tornesch.**

Das geht fix aber nur im richtigen Zug und vom richtigen Gleis kommt ihr ans Ziel!

Auf der folgenden Seite findet ihr einen Fahrplan.

Die Anschlussbahnen und Busse sind bei den Aufgaben beschrieben.

**Da es in Pinneberg schon einige Aufgaben zu erledigen gibt, empfiehlt es sich, schon 15 Minuten vor Abfahrt der Regionalbahn dort zu sein.**

Während der Fahrt und während der Pausen an den Umsteigehaltstellen, müsst ihr bestimmte Fragen beantworten/Aufgaben erledigen und die Lösungen auf eurem Zettel eintragen.

Manchmal erfolgen die Aufgaben sehr schnell nacheinander während der Fahrt, dann habt ihr wieder Phasen, in denen ihr euch entspannt in den Sitzen zurücklehnen könnt.

**Übrigens:** Wer in Fahrtrichtung sitzt und aus dem Bus schaut, sieht am meisten!

Achtet beim Umsteigen auf die Abfahrt des Anschlussbusses/der Anschlussbahn.

Wenn ihr eine Frage nicht beantworten könnt, macht euch keine Gedanken, lasst sie einfach aus, nicht so schön wäre es, lange auf den nächsten Bus/die nächste Bahn zu warten.

**Tipp:** Lest alle Aufgaben vor dem Start einmal durch.

**Die Fahrkarten, die ihr bekommt, müsst ihr gemeinsam zu viert nutzen.**

Wenn ihr euch verfahren habt, wenn gar nichts mehr geht, ruft an beim **hvv Infotelefon: 040 - 19449**

**Was ihr braucht kurz gefasst:**

- >> eine Schreibunterlage Din A4
- >> einen Stift
- >> evtl. etwas Verpflegung
- >> evtl. Handy
- >> eine gute Beobachtungsgabe



**Viel Glück und gute Fahrt wünschen euch die hvv Schulprojekte**



## Rallye 601, Fahrplan <sup>1)</sup>

ab Wedel 594	an Pinneberg	Pause	ab Pi RB 61/ RB 71	an Tornesch	Pause	ab To X66	an Uetersen, Buttermarkt	Pause	ab Ue 489	an We
07:50	08:26	19	08:45 (RB71)	08:52	30	09:22	09:34	27	10:01	10:38
09:03	09:37	58	09:25 (RB61)	09:32	50	10:22	10:34	27	11:01	11:38
10:03	10:37	29	10:06 (RB71)	10:13	9	10:22	10:34	27	11:01	11:38
		48	10:26 (RB61)	10:32	50	11:22	11:34	27	12:01	12:38
		29	11:06 (RB71)	11:13	9	11:22	11:34	27	12:01	12:38
11:03	11:37	48	11:25 (RB61)	11:32	50	12:22	12:34	28	13:02	13:39
		29	12:06 (RB71)	12:13	9	12:22	12:34	28	13:02	13:39
		48	12:25 (RB61)	12:32	70	13:22	14:03	58	15:01	15:38
12:03	12:37	28	13:06 (RB71)	13:13	28	13:41	13:53	68	15:01	15:38
		47	13:25 (RB61)	13:32	9	13:41	13:53	68	15:01	15:38
13:03	13:37	29	14:06 (RB71)	14:13	28	14:41	14:53			
		48	14:25 (RB61)	14:32	9	14:41	14:53	38	15:31	16:08
14:03	14:37	29	15:06 (RB71)	15:13	28	15:41	15:53	38	16:31	17:08
		48	15:25 (RB61)	15:32	9	15:41	15:53	38	16:31	17:08
15:03	15:37	29	16:06 (RB71)	16:19	22	16:41	16:53	18	17:11	17:48
		48	16:25 (RB61)	16:32	53	17:25	17:37	34	18:11	18:48

1) Fahrplan gilt montags bis freitags bis 10.12.2022



Am Bahnhof Pinneberg sollt ihr herausfinden wie lange eine Fahrt mit der S3 von Pinneberg nach Stade dauert!

**Dauer:**

Es beginnt mit der Regionalbahn der **RB61/RB71 Richtung Elmshorn/ltzehoe/Neumünster** bis nach Tornesch.

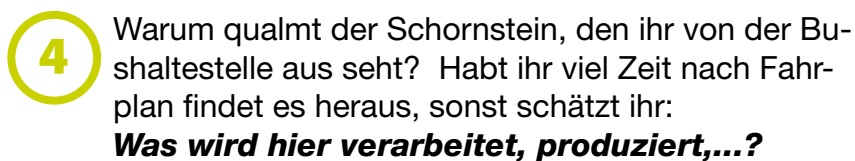
Das geht fix aber nur im richtigen Zug und vom richtigen Gleis kommt ihr ans Ziel! In Tornesch auf dem Bahnsteig hilft euch ein Plan bei der folgenden Frage.



**Zur Weiterfahrt mit dem Bus müsst ihr auf die andere Seite der Gleise gehen.**

In dem Fahrplan einiger Rallyeumläufe kommt die Weiterfahrt sehr bald! In Fahrtrichtung des Zuges kurz vor der „2“ geht ihr rechts raus unter der Brücke her, dann links hoch („Züge Richtung Hamburg, Bahnhof, ...“) und sucht die Bushaltestelle auf dem Bahnhofsvorplatz.

Alle umsteigen!






Alle umsteigen!

**Ab Tornesch geht es weiter mit dem X66er Richtung Uetersen, Buttermarkt bis zur Endhaltestelle.**


5

Die erste Haltestelle bringt die Antwort auf die Frage:  
**Wem gehören die Tannen?**



6

Wenn ihr an der Haltestelle „**Tantaus Allee**“ den Blick nach links wendet, seht ihr ein Haus, **das sich in folgender Farbe präsentiert:**



7

Angekommen am Buttermarkt in Uetersen, solltet ihr einen Blick auf das Haltestellenschild werfen;  
**welches Piktogramm ist dort abgebildet?**

8

**Nun warten zwei Aufgaben im Klosterbereich auf euch.**


Überquert die Straße an der Ampel, natürlich nur bei grün! Hier findet ihr auch die **Haltestelle vom 489er, der weiter nach Wedel bringt.**

Rechts von der Haltestelle führt ein Weg, der Klosterhof zum Klostergelände. Hier gibt es folgende Fragen zu beantworten:

**Die erste und die letzte vierstellige Zahl der Erklärung zu Gustchen Stolberg addiert, ergibt welche Summe?**

Geht im Uhrzeigersinn außerhalb der Hecke um die Kirche.

**Was begann im 14. Jahrhundert im Kloster zu Uetersen?**




**Nachdem ihr alle Aufgaben erfolgreich bewältigt habt, geht es zurück zur Bushaltestelle Uetersen, Buttermarkt und mit dem 489er Richtung S Wedel geht es weiter zum Ziel.**





- 9** Kurz hinter der Haltestelle Ostbahnhof liegen die Nordmarkwerke. Achtet auf deren Logo (Zeichen), **prägt es euch ein, malt es auf und macht einen Vorschlag, was es bedeuten könnte.**

- 10** Nach der Haltestelle Moorrege, Voßmoor, am Ende der Linkskurve, passiert ihr ein Museum. **Davor steht ein Haus,**  
**dort fliegen ..... ein und aus.**



- 11** **Eine der nächsten Haltestellen heißt**  
**Hei .....,**  
**Hei .....**

- 12** An der Haltestelle Holm, Steinberge kann man aussteigen und einkaufen.  
**Rechts gibt es...**  
**Links gibt es...**

- 13** Ihr kommt wieder in Wedel an, und wenn der Bus links in die Straße Lüländen einbiegt, achtet auf die Straßen und Wege, die zur Rechten abzweigen. Sie sind nach bestimmten Personen benannt. **Achtet auf die Namen, merkt sie euch und findet heraus, was sie verbindet.**

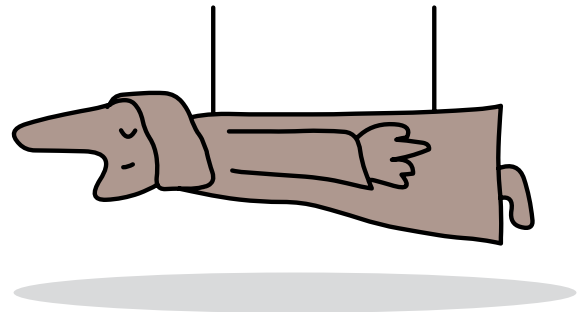


- 14** Schräg gegenüber der Haltestelle Roland befindet sich ein Museum.

**Wie heißt es?**


**Wem ist es gewidmet?**

**... und was hat derjenige, dem es gewidmet ist, mit Wedel zu tun?**



**Steigt aus am S-Bahnhof Wedel, eure letzte Linie ist jetzt die 594 Richtung UA Norderstedt Mitte.**

- 15** Auf der Busanlage ist eine Landkarte mit einem Auszug aus dem Kreis Pinneberg. Auf dieser Karte findet ihr einen Hinweis auf eine Blume die zu bestimmter Zeit tausendfach blüht. **Wie heißt diese Blume?**



- 16** **Wer auf der „Lühe-Schulau-Fähre“ als 15 jähriges Kind übersetzen möchte, was muss er/sie bezahlen?**  
(Rückseite der STADT-INFORMATION)

- 17** Kaum ist der Bus gestartet, bringt die erste Station die nächste Frage. Das lasst ihr euch nicht nehmen, **ein Roland steht auch in:**

seine Kugel hat die Farben:





18



**Welchen Bereich verlässt der Bus kurz hinter Wedel um dort kurz vor Pinneberg wieder einzutauchen?**  
(Eine Frage des Tarifs ...)

19

Wieder mal die Haltestelle Holm, Steinberge.

**Und noch einmal könnt ihr überprüfen, was man hier einkaufen kann.**

20

Nach der Haltestelle Schulstraße geht es durch einen Kreisverkehr, dann biegt der Bus rechts ab, und dort stehen sie, **nicht im Walde, die ...**

21

Entspannt euch, genießt die Fahrt, und bevor es in den Wald geht, lasst euch nicht erschrecken **von Kessy, dem Waldungeheuer, der Märchenprinzessin, der kessen ...**



22

Kessy habt ihr bezwungen, und im Gelände zur Rechten wird auf kleine Bälle eingeschlagen.  
**Wie nennt man so etwas?**







23

**Eine Frage zur Ökobilanz:**

Ein Bus verbraucht ca. 30 Liter Treibstoff pro 100 Kilometer. Zählt wieviele Fahrgäste aktuell in diesem Bus unterwegs sind.

**Wievell Liter Treibstoff verbraucht der Bus aktuell pro Fahrgast pro 100 Kilometer?**

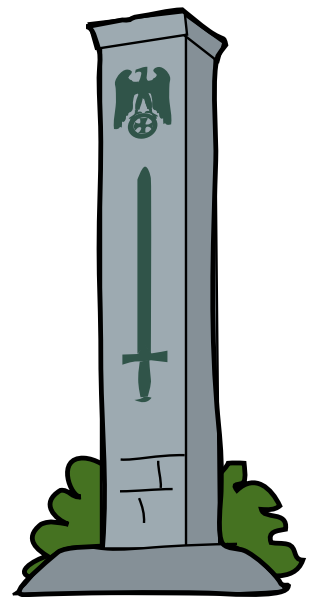
Beschäftigt euch mit dem Thema gern etwas länger, denn Ihr habt reichlich Zeit bis zur nächsten Haltestelle.



24

Auf dem Weg von der Busanlage zum Bahnhof seht ihr auf der linken Seite ein Denkmal. **Woran wird erinnert?**

Wie ist das Denkmal zusätzlich "gestaltet"?  
(Macht ggf. ein Foto)



Zurück am S-Bahnhof Pinneberg,

**Herzlichen Glückwunsch,  
ihr habt es geschafft!**

25

Zusatzfrage:

**Warum heißt die Rallye „Rallye 601“?**

(Eine Frage des Tarifs)

